

Nombre:

Escribe un número menor que...

2 →

3 →

4 →

5 →

6 →

7 →




8 →

9 →

Escribe la serie numérica descendente del 8 al 1

--	--	--	--	--	--	--	--

Continúa la serie

											
---	---	---	--	--	--	--	--	--	--	--	--